



MUSTAFA ASİM KÖKSAL
ANADOLU İMAM HATİP LİSESİ
2019



ORTAOKUL ÖĞRENCİ SEÇME SINAVI

2024-2025 EĞİTİM ÖĞRETİM

5. SINIFA GİRİŞ DENEME SINAVI

MUSTAFA ASİM KÖKSAL
ANADOLU İMAM-HATİP LİSESİ



(0312) 580 26 26



www.masimkoksalahl.meb.k12.tr



MUSTAFA ASİM KÖKSAL ANADOLU İMAM-HATİP LİSESİ

ORTAOKUL ÖĞRENCİ SEÇME (DENEME)SINAVI

AÇIKLAMALAR

- Sınav kitapçığını cevaplamaya geçmeden önce CEVAP KÂĞIDINIZA adınızı-Soyadınızı, Sınıfınızı ve Okul Numaranızı ilgili yerlere yazınız.
- Soru kitapçığınızda eksik sayfa olup olmadığını, hızlıca kontrol ediniz.
- Öğretmeniniz sınava başlamanız için izin vermeden cevaplamaya başlamayınız.
- Sınav bitimine kadar dışarı çıkılmayacaktır. Bu nedenle sınav sonuna kadar soruları çözmeye çalışın.
- Bu sınavda 50 örnek soru vardır. Seçme Sınavında 80 soru sorulacaktır.
- Yanlış cevaplar, doğru sayısını etkilemeyecektir. Soruları bu nedenle boş bırakmayınız.
- Cevaplarınızı, cevap anahtarına kutucuğu taşırmadan, içerisini dolduracak şekilde işaretleyiniz.
- Soru kitapçığını sınav ve cevap anahtarınızı sınav bittiğinde masanızın üzerinde bırakın.
- Sınav esnasında konuşmayın, arkadaşlarınıza bakmayın, kopya çekmeye çalışmayınız.

SINAV SORU DAĞILIMI

TÜRKÇE	10 SORU
MATEMATİK	10 SORU
FEN BİLİMLERİ	6 SORU
SOSYAL BİLGİLER	6 SORU
DİN KÜLTÜRÜ	6 SORU
İNGİLİZCE	6 SORU
GENEL YETENEK	6 SORU

Sınav Soru Sayısı 80 Soru

Sınav Başlama Saati 10:00

Sınav Bitiş Saati 11:30

Türkçe Testi

Soru 1.

Kabak-Kabuk-Kaba-Kablo-Kapmak

Verilen kelimeler alfabetik sıraya göre sıralandığında baştan üçüncü kelime hangisi olur?

- A) Kablo B) Kabak
C) Kapmak D) Kabuk

Soru 2.

Aşağıdaki cümlelerden hangisinde **zıt anlamlı** kelimeler bir arada kullanılmıştır?

- A) Ayağı taşa takılınca yere düştü.
B) Arkadaşının yaptıklarına gülerken bir anda ağlamaya başladı.
C) Güzel havayı görünce piknik yapmaya karar verdik.
D) Teknoloji bağımlılığı çok ciddi sağlık sorunlarına neden olabilir?

Soru 3.

Aşağıdaki cümlelerin hangisinde yapım eki almış bir kelime **yoktur**?

- A) Ayakkabılığın kapağını kapatır mısınız?
B) Bana da dua eder misin?
C) Bahçeyi temizlemek için seferber oldular.
D) Yardımlaşarak işleri hızlıca bitirebiliriz.

Soru 4.

Altı çizili kelimelerden hangisinin yazımı **yanlıştır**?

- A) Yalınız başına oturuyordu.
B) Kibritle oynamak tehlikelidir.
C) Bugün hava çok sıcak.
D) Hiçbirşey eskisi gibi olmayacak.

Soru 5.

“Sağlık varlıktan yeğdir.” Atasözünün anlamı aşağıdakilerden hangisidir?

- A) Sağlıktan büyük zenginlik olamaz.
B) İnsanın yapacağı her şey vücut sağlığına bağlıdır.
C) Birleşmek, tek bir yürek olmak.
D) Birlikte hareket etmek sağlığımız için önemlidir.

Soru 6.

Aşağıdaki cümlelerin hangisinde **“hediye”** kelimesinin eş anlamlısı kullanılmıştır?

- A) Arkadaşına bir kitap verdi.
B) Aramaya devam etmelisin.
C) Hayatımda aldığım en güzel armağandı.
D) Doğum gününde bana bir kitap almış.

Soru 7.

Evde oturmaktan sıkılmış ve parka gitmeye karar vermiştim. Bunun için önce annemden izin aldım. Daha sonra elbiselerimi değiştirip evden çıktım. **Altı çizili kelimelerden hangisi ayrılma anlamı vermektedir?**

- A) Parka B) Evde
C) Evden D) Sıkılmışım

Soru 8.

Aşağıdaki cümlelerin hangisinde mecaz anlamlı bir kelime kullanılmıştır?

- A) Bu kitap açık bir dille yazılmıştır.
B) Yağmur yağdığı için yerler ıslanmıştı.
C) Halamın yemekleri çok lezzetlidir.
D) Ödevlerimi bitirdikten sonra oyun oynayacağım

Soru 9.

Aşağıdaki cümlelerin hangisinde bahsedilen iş geçmişte yapılmıştır?

- A) Her gün kitap okurum.
- B) Akşamları ders çalışmış.
- C) Babasıyla köye gidecekmış.
- D) Ayağı takılınca yere düşmüş.


Soru 10.


Aşağıdaki cümlelerin hangisinde öznel bir yargı vardır?


- A) Hava sıcaklığı 36 derece olmuş.
- B) Sivas Türkiye'nin en güzel şehridir.
- C) Sınava 68 öğrenci katıldı.
- D) Soruların 4 tanesini doğru bildi.


Matematik Testi

Soru 11. Bir öğrenci elindeki dört tane kartı yan yana getirerek dört basamaklı bir sayı oluşturup soldan sağa doğru okuyacaktır. Kartların üstünde yazan sayılarla ilgili bilgiler aşağıda verilmiştir.

 En büyük rakam

 En küçük çift rakam

 En büyük çift rakam

 En küçük tek rakam

    Kartların yan yana dizilişi

Buna göre bu sayının okunuşu aşağıdakilerden hangisidir?

- A) Sekiz bin yüz seksen bir
- B) Dokuz bin seksen bir
- C) Dokuz bin yüz seksen bir
- D) Dokuz bin yüz seksen

Soru 12.



Bilgi: Bir ay 4 haftadır.




Aylin bir saksıya 50 cm uzunluğunda bir bitki dikmiştir. Bitki her hafta 30 cm uzuyor. **5 ay sonra bitkinin boyu aşağıdakilerden hangisine eşit olur?**

- A) 6 metre 50 cm
- B) 1 metre 50 cm
- C) 2 metre
- D) 6 metre

Soru 13. Aşağıda iki farklı sayı örüntüsü verilmiştir.

10, , 14, 16, 18
70, 65, 60, , 50



Buna göre şekilde istenilen işlemin sonucunun rakamları toplamı aşağıdakilerden hangisidir?

- A) 12
- B) 11
- C) 10
- D) 9

Soru 14. Kaan bilgisayar oyununa bir şifre hazırlayacaktır. Şifre ile ilgili bilgiler aşağıda verilmiştir.

- ✓ 5671 sayısı onlar basamağına yuvarlandığında onlar basamağındaki rakam
- ✓ 2068 sayısı yüzler basamağına yuvarlandığında yüzler basamağındaki rakam
- ✓ 1676 sayısı binler basamağına yuvarlandığında binler basamağındaki rakam
- ✓ 3445 sayısı yüzler basamağına yuvarlandığında yüzler basamağındaki rakam

Buna göre yukarıda verilen sıraya göre şifreyi belirleyen Kaan'ın şifresi aşağıdakilerden hangisidir?

- A) 8124 B) 7024 C) 7124 D) 7125

Soru 15. Ece tatil günü için kendisine tablodaki gibi bir plan yapmıştır.

Başlangıç	11.10
Ders çalışma	45 dk
Mola	15 dk
Kitap okuma	55 dk
Test çözme	45 dk
Yemek yeme	65 dk
Tv izleme	90 dk

Buna göre Ece TV izlemeyi bitirdiğinde saat kaçtır?

- A) 16.40 B) 16.45 C) 17.20 D) 16.25

Soru 16. İstanbul'un bazı ilçelerinin 2022 yılındaki nüfusları tabloda verilmiştir.

Üsküdar	524.452
Maltepe	528.544
Başakşehir	514.900
Sultangazi	542.531

Buna göre ilçelerin nüfusları büyükten küçüğe sıralandığında sondan ikinci olan ilçe aşağıdakilerden hangisidir?

- A) Sultangazi B) Üsküdar
C) Maltepe D) Başakşehir

Soru 17. Aşağıdaki kutularda dört basamaklı sayılar verilmiştir.

3412

Pembe

2608

Yeşil

- Pembe kutudaki doğal sayının binler basamağındaki rakamın sayı değeri 4 artırılır.
- Yeşil kutudaki doğal sayının birler basamağındaki rakamın sayı değeri 2 azaltılır.
- Elde edilen sayıların farkı bulunur.

Yukarıdaki adımlar sırasıyla uygulandığında oluşan sayı aşağıdakilerden hangisidir?

- A) 5004 B) 1106 C) 4602 D) 4806

Soru 18. Tarık Bey ve Elif Hanım çocuklarına tablet almışlardır.

Tarık Bey'in aldığı tablet 6500 tl dir. 750 tl'sini peşin ödeyip geri kalanını 5 taksite böldürecektir.

Elif Hanım'ın aldığı tablet 6200 tl'dir. 600 tl sini peşin ödeyip geri kalanını 8 taksite böldürecektir.

Buna göre Tarık Bey ve Elif Hanım'ın ödedikleri ilk taksitlerin arasındaki fark kaç tl'dir?

- A) 350 B) 440 C) 450 D) 500

Soru 19.

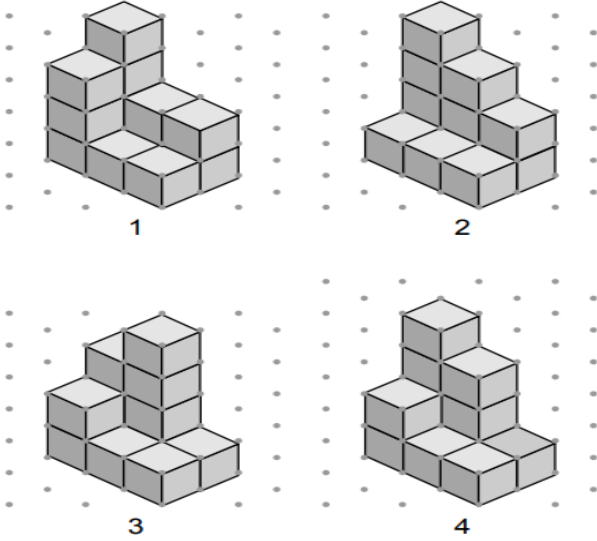
Eşit büyüklükteki dört tane pastayı Eylül 4 dilime, Yiğit 5 dilime , Aras 3 dilime , Kaan 6 dilime kesip hepsi 1 er dilim yiyor.



Buna göre en büyük dilimi yiyen aşağıdakilerden hangisidir?

- A) Kaan B) Aras C) Yiğit D) Eylül

Soru 20.



Yukarıda eş küplerle oluşturulan yapıları tamamlamak için kullanılacak küp sayılarının toplamı kaçtır?

- A) 45 B) 46 C) 47 D) 48

Fen Bilimleri Testi

Soru 21.

4/A sınıfı öğrencileri aşağıdaki malzemeleri getirerek elektrik devresi kurmuşlardır.

Miray: kablo, duyu, ampul

Tuğra: ampul, kablo, pil

Hüseyin: 2 tane ampul, pil, anahtar

Kurulacak devrelerle ilgili hangisi her zaman doğrudur?

- A) Miray'ın devresinde anahtar olmadığı için devresi çalışmaz.
B) Tuğra'nın devresinde duyu olmadığı için devresi çalışmaz.
C) Miray ve Hüseyin malzemelerini birleştirirse çalışan bir devre kurabilirler.
D) Hüseyin'in devresinin çalışması için bir pil daha gereklidir.

Soru 22. Yeniden kullanım, bir ürünü veya malzemeyi aynı veya farklı bir şekilde bir kereden fazla kullanmak demektir.

Yukarıda tanımı yapılan kavrama aşağıdaki verilenlerden hangisi örnek olamaz?

- A) Biten kâğıt havlu rulolarını etkinliklerde kullanmak
B) Alışveriş poşetlerini defalarca kullanmak
C) Yırtılan kot pantolonundan çanta yapmak
D) Yeni alınacak buzdolabını enerji tasarruflu seçmek

Soru 23. Aslıhan kahvaltıda peynir, süt ve yumurta yemiştir. Fakat kardeşi bunları yemek istememiş. Annesinden çikolatalı ekmeğe isteyip yemiştir. Buna göre;

Aslıhan ve kardeşi kahvaltıda hangi besin gruplarını tercih etmiştir?

- | <u>Aslıhan</u> | <u>Kardeşi</u> |
|-----------------|------------------|
| A) Karbonhidrat | Mineral, yağ |
| B) Protein | Karbonhidrat |
| C) Protein | Vitamin, mineral |
| D) Yağ | Karbonhidrat |

Soru 24.



Başlangıç hacmi 300 mL olan suyun içerisine bir taş atıldığında suyun hacmi 380 mL oluyor buna göre taşın hacmi aşağıdakilerden hangisidir?

- A) 60 mL B) 70 mL C) 80 mL D) 90 mL

Soru 25.

- I. Mıknatıs temas gerektirmeyen kuvvettir.
- II. Pusulada mıknatıslardan yararlanılmıştır.
- III. Mıknatısın zıt kutupları birbirini çeker.
- IV. Bir mıknatıs ikiye bölündüğünde kutuplarını kaybeder.

Yukarıda mıknatıs ile ilgili verilen öncüllerden hangisi veya hangileri doğrudur?

- A) I, II, III
- B) IV
- C) I, III
- D) II, III, IV

Soru 26. Bir öğrenci yüzen ve batan cisimleri gözlemlemek istiyor. Bu amaçla su dolu kaba toprak, taş, talaş ve yaprak atıyor.

Öğrenci deney sonucuna göre bu maddeleri nasıl sınıflandırmalıdır?

Yüzer

- A) Toprak-taş
- B) Talaş-taş
- C) Yaprak-taş
- D) Talaş-yaprak

Batar

- A) Yaprak-talaş
- B) Yaprak-toprak
- C) Toprak-talaş
- D) Toprak-taş

Sosyal Bilgiler Testi

Soru 27.

- I-Mutlu, çekingen veya cimri olmak bizim fiziksel özelliklerimizdir.
II-Kronoloji sayesinde yaşanan olaylar, oluş sırasına göre sıralanır.
III-Yeni kimlik belgelerinde cinsiyete göre renk ayrımı yoktur.
IV-Doğa gezisine çıkmak insanın yeteneğine örnektir.

Yukarıda verilen cümlelerin doğru (D) ve yanlış (Y) olarak sıralanışı aşağıdakilerden hangisidir?

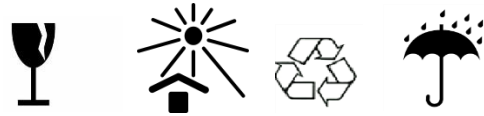
- A) Y-D-Y-D
- B) D-D-Y-Y
- C) Y-Y-Y-D
- D) Y-D-D-Y

Soru 28. Oyunlar geleneksel ve bilgisayar oyunları olmak üzere iki çeşittir. Bahçede, sokakta vb. yerlerde bir arada oynadığımız oyunlar geleneksel olarak adlandırılır. Bu oyunlar grup halinde birçok çocuk tarafından oynanır. Teknolojinin gelişmesi ile ortaya çıkan oyunlara da bilgisayar oyunları denir. Bilgisayar oyunları ise genellikle tek kişi ile veya farklı kişilerle sanal ortamlarda oynanır. Geleneksel oyunlarda toplumsal değerler göze çarparken, bilgisayar oyunları içinde bu değerler ya hiç yoktur ya da çok az bulunmaktadır.

Yukarıda verilen paragrafa göre aşağıdakilerden hangisi yanlıştır?

- A) Geleneksel oyunlar genellikle grup halinde oynanır.
- B) Toplumsal değerler geleneksel oyunlarda daha fazladır.
- C) Bilgisayar oyunları fiziksel gelişim için daha yararlıdır.
- D) Bilgisayar oyunları ile manevi değerleri aktarmak daha zordur.

Soru 29.



Yukarıda bir tüketicinin aldığı ürünün üzerinde yer alan bazı semboller verilmiştir. Buna göre bu tüketicinin aldığı ürünü muhafaza ederken aşağıdaki yaptığı davranışlardan hangisi yanlıştır?

- A) Ürünü darbelere karşı korumalıdır.
- B) Ürünü nemli bir yerde saklamalıdır.
- C) Ürünün ambalajını geri dönüm kutusuna atmalıdır.
- D) Ürünü Güneş görmeyen ortamda saklamalıdır.

Soru 30.

TEMEL İHTİYAÇLAR

- Beslenmek
- Oyun oynamak
- Uyumak

SOSYAL İHTİYAÇLAR


- Sinemaya gitmek
- Seyahate çıkmak
- Barınmak

Yukarıda bazı temel ve sosyal ihtiyaçlarımız verilmiştir. Bunlardan hangi ikisi değişirse yanlışlık düzeltilmiş olur?

- A) Beslenme- Barınma
- B) Oyun oynamak- Sinemaya gitmek
- C) Oyun oynamak- Barınmak
- D) Uyumak- Seyahate çıkmak

Soru 31.

Aşağıda Ankara ilinin Mayıs ayındaki 4 günlük hava durumu verilmiştir.

Pazartesi	Salı	Çarşamba	Perşembe
15°	10°	10°	8°
			

Buna göre aşağıdakilerden hangisi söylenemez?

- A) Salı ve Çarşamba günleri hava bulutlu ve sıcaklıklar eşittir.
- B) Pazartesi günü hava durumu sağanak yağışlıdır.
- C) Yağmurun yağdığı gün sıcaklığın en düşük olduğu gündür.
- D) Pazartesiden perşembeye sıcaklıklar düşmüştür.

Soru 32.

İhtiyaçlarımızı karşıladığımız hava, su, toprak, bitki örtüsü, oksijen, madenler vb. doğal kaynakları oluşturur. Doğal kaynaklar insan ve toplum hayatı için çok önemlidir. Doğal kaynakların azalması, canlıların yaşam alanlarını kısıtlamakta ve çevresel felaketlere yol açmaktadır. Doğal kaynaklarımızı kullanırken tükenebilir olduğunu unutmamalıyız. Yaşamımızın vazgeçilmez parçası olan doğal kaynaklarımızı bilinçli ve israfa kaçmadan kullanmalıyız. Sadece aile bütçemizi değil ülkemizin bütçesini de düşünmeliyiz. **Yukarıda verilen bilgilere göre aşağıdakilerden hangisi yanlıştır?**

- A) Doğal kaynaklar yaşamımız için çok gereklidir.
- B) Doğal kaynaklarımız sınırsızdır.
- C) Rüzgâr, su, toprak doğal bir kaynaktır.
- D) Doğal kaynakları kullanırken israf etmemeliyiz.

Din Kültürü ve Ahlak Bilgisi Testi

Soru 33. “.....; barış, esenlik, huzur, emniyet ve güven gibi anlamlara gelir.”

Yukarıdaki cümlede boş bırakılan yere aşağıdaki kavramlardan hangisi gelmelidir?

- A) Selam
- B) Besmele
- C) Sevgi
- D) İman

Soru 34. “Kişinin iman, ibadet, ahlak ve tüm güzel davranışlarının karşılığı olarak Yüce Allah tarafından kendisine verilen mükâfattır.”

Yukarıdaki tanım aşağıdakilerden hangisidir?

- A) Günah
- B) Helal
- C) Sevap
- D) Haram

Soru 35. İslama göre temizlik maddi ve manevi temizlik olarak ikiye ayrılır. Buna göre aşağıdakilerden hangisi maddi temizliğe örnektir

- A) Dürüst olmak
- B) Güvenilir olmak
- C) ahlaklı olmak
- D) Elleri yıkamak

İngilizce Testi

Soru 36.

Aşağıda verilenlerden hangileri İslam'ın inanç esaslarındadır?

- I. Namaz kılmak
- II. Meleklerle inanmak
- III. Kitaplara inanmak
- IV. Hacca gitmek
- V. Peygamberlere inanmak

A) III ve V B) I, III ve IV C) II, III ve V D) III ve IV

Soru 37. "Biz insana iyi davranmayı emrettik..." **Ahkâf suresi, 15. ayet.** Yukarıdaki ayette boş bırakılan yere hangisi gelmelidir?

- A) Anne babasına B) Akrabaya
- C) Komşulara D) Çocuklara

Soru 38. Peygamberimiz (S.A.V.) Kureyş kabilesinden, Haşimoğulları sülalesindedir. dedesi, babası, Hz. Annesidir.

Yukarıdaki boş bırakılan yere aşağıdakilerle doldurduğumuzda hangisi açığa kalır?

- A)Abdulttalip B) Amine
- C) Abdullah D) Halime

Soru 39.


Look at the Picture and choose the correct option to fill in the blank.



Jeremy and his friend, Maggie are happy. They like _____.

- A) skipping rope B) cooking
- C) flying a kite D) riding a bike

Soru 40.



My dog likes sleeping outside. He is _____ the tree now.

Which option is correct for the blank?

- A) On B) in C) under D) Behind

Soru 41.



I can write and read books. I am a / an _____.

- A) police woman B) teacher
- C) nurse D) writer

Soru 42.

Deniz is in Math class now. His teacher asks a problem.
Which option is the solution for the problem?



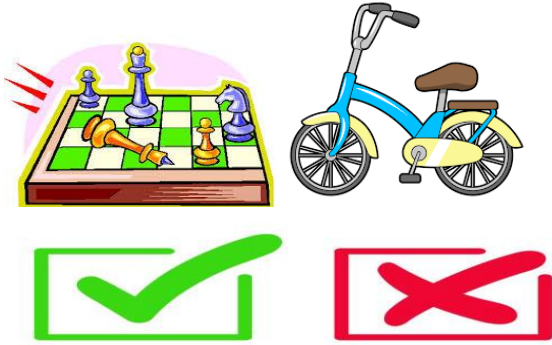
- A) Six
- B) Eight
- C) Ten
- D) Eleven

Soru 43.



We are in Tokyo. We are _____.
Which option can complete the blank?

- A) Japanese
- B) Turkey
- C) China
- D) American

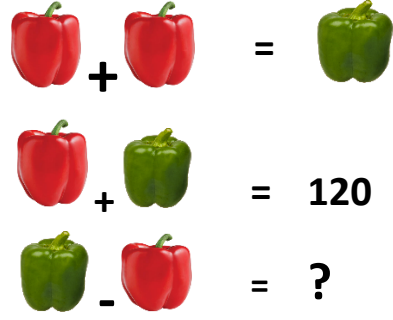


Soru.44. Yukardaki görselle uygun olan cümleyi işaretleyiniz.

- A) I like playing chess and riding bike.
- B) I like playing chess but I dislike riding bike.
- C) I dislike playing chess and riding bike.
- D) I don't like playing chess but I like riding bike.

Genel Yetenek Testi

Soru 45.



- A) 30
- B) 35
- C) 40
- D) 45

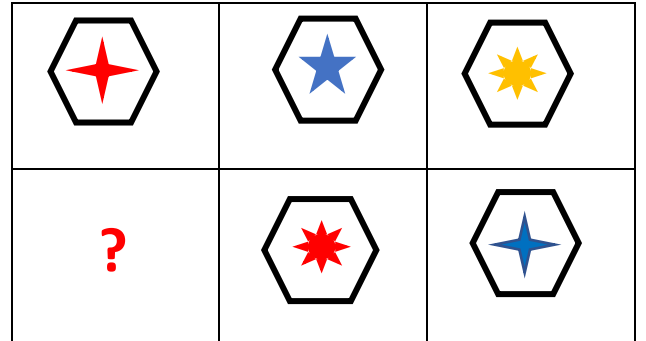
Soru 46.

YASA	5030
SARI	3026
IRAK	6204
KATI	?

Yukarıdaki kelimeleri oluşturan harfler, rakamlarla eşleştirilmiştir. Buna göre **KATI** kelimesinin eşleştiği rakam hangisidir?

- A) 4026
- B) 4286
- C) 5086
- D) 4086

Soru 47.



Soru işaretinin yerine hangi şekil gelmelidir?

- A)
- B)
- C)
- D)

Soru 48.

15	♥	3	→	5
9	♥	3	→	3
4	☁	2	→	8
3	☁	1	→	3
125	♥	5	→	?

Yukarıda tablo içerisinde verilen sayılar ve şekiller dikkate alındığında soru işaretinin yerine hangi sayı gelmelidir?

- A) 15 B) 20 C) 25 D) 35

Soru 49.

?		

Yukarıda belli bir sıralaması olan şekiller bulunmaktadır. Buna göre soru işaretinin olduğu yere hangi şekil gelmelidir?

- A)
- B)
- C)
- D)

Soru 50.

	+		+		= 36
	+		+		= 20
	+		+		= 18
	+		+		= ?

Soru işaretinin olduğu bölümün cevabı kaçtır?

- A) 31 B) 27 C) 23 D) 21



ÖNEMLİ :

Deneme Sınavı Cevap Anahtarı 3 Haziran Pazartesi 2024 tarihinde okulumuz internet sayfasında <https://masimkoksalaihl.meb.k12.tr/> yayınlanacaktır.

2024-2025 Eğitim-Öğretim yılı 5. Sınıfına kayıt için "ÖĞRENCİ SEÇME SINAVI" 12 HAZİRAN 2024 Çarşamba Tarihinde (saat 10:00-11:45) Mustafa Asım Köksal Anadolu İmam-Hatip Lisesi'nde yapılacaktır.

Sınav sonuçları sonrasında 80 asil öğrenci kayıt hakkı kazanacak olup yedekten kazanan öğrenciler, asillerden kayıt yapılmaması durumunda kayıt hakkı kazanacaktır.

Öğrencilerimizin ve velilerimizin mağduriyet yaşamaması için Sınav Başvurularını en geç **10 Haziran 2023** tarihine kadar <https://forms.gle/Lp3XAjTwEmpUvSRJ9> adresinden yapması gerekmektedir.

CEVAP ANAHTARI

SORU 1	A	SORU 26	D
SORU 2	B	SORU 27	D
SORU 3	B	SORU 28	C
SORU 4	D	SORU 29	B
SORU 5	A	SORU 30	C
SORU 6	C	SORU 31	B
SORU 7	C	SORU 32	B
SORU 8	A	SORU 33	A
SORU 9	D	SORU 34	C
SORU 10	B	SORU 35	D
SORU 11	B	SORU 36	C
SORU 12	A	SORU 37	B
SORU 13	A	SORU 38	D
SORU 14	C	SORU 39	D
SORU 15	D	SORU 40	C
SORU 16	B	SORU 41	D
SORU 17	D	SORU 42	A
SORU 18	B	SORU 43	A
SORU 19	B	SORU 44	B
SORU 20	D	SORU 45	C
SORU 21	C	SORU 46	D
SORU 22	D	SORU 47	B
SORU 23	B	SORU 48	C
SORU 24	C	SORU 49	A
SORU 25		SORU 50	C